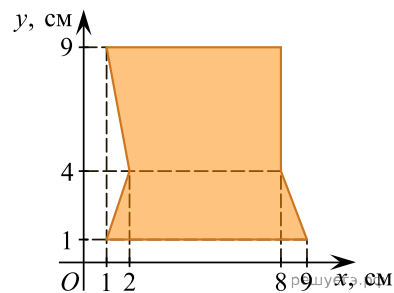
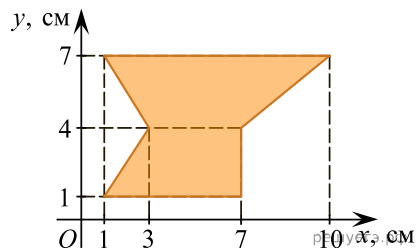


1. Найдите площадь фигуры, изображенной на рисунке.



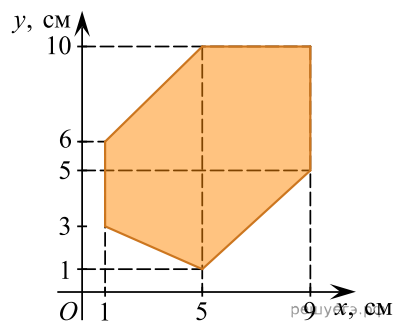
- 1)  $53 \text{ см}^2$    2)  $48 \text{ см}^2$    3)  $53,5 \text{ см}^2$    4)  $54 \text{ см}^2$    5)  $56 \text{ см}^2$

2. Найдите площадь фигуры, изображенной на рисунке.



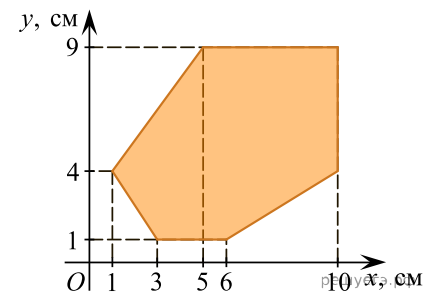
- 1)  $34 \text{ см}^2$    2)  $34,5 \text{ см}^2$    3)  $35 \text{ см}^2$    4)  $36 \text{ см}^2$    5)  $54 \text{ см}^2$

3. Найдите площадь фигуры, изображенной на рисунке.



- 1)  $52 \text{ см}^2$    2)  $52,5 \text{ см}^2$    3)  $72 \text{ см}^2$    4)  $53 \text{ см}^2$    5)  $24 \text{ см}^2$

4. Найдите площадь фигуры, изображенной на рисунке.



- 1)  $40 \text{ см}^2$    2)  $53 \text{ см}^2$    3)  $53,5 \text{ см}^2$    4)  $54 \text{ см}^2$    5)  $81 \text{ см}^2$